

Nama :

Tanggal :

LEMBAR KERJA SISWA KELAS 3 MATEMATIKA

1. Pasangkanlah Nilai Pecahan berikut ini dengan gambar di sebelahnya dengan menarik garis !

$\frac{3}{6}$



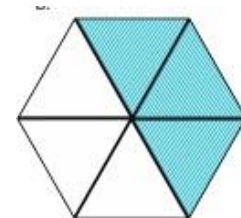
$\frac{1}{2}$



$\frac{1}{6}$



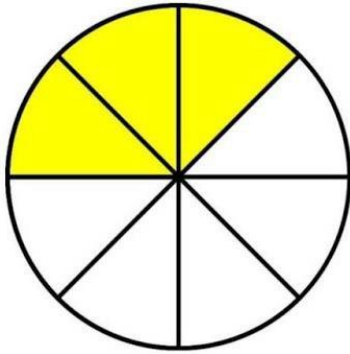
$\frac{2}{4}$



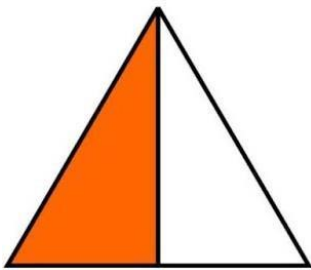
$\frac{1}{8}$



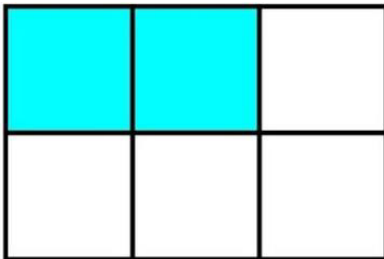
2. Pasangkanlah nilai pecahan sesuai gambar yang tersedia dengan cara tarik garis!




$\frac{3}{15}$



$\frac{4}{5}$



$\frac{1}{2}$



$\frac{3}{8}$



$\frac{2}{6}$